

Nom :


Prénom :

Score : /20

Classe :

- ✓ *Durée : 10 minutes*
- ✓ *L'épreuve comporte 20 questions.*
- ✓ *L'usage de la calculatrice et du brouillon sont interdits. Il n'est pas permis d'écrire des calculs intermédiaires.*

Sujet CE2 mai/juin 2022




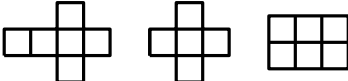
2022



La course aux nombres


MINISTÈRE
DE L'ÉDUCATION
NATIONALE,
DE LA JEUNESSE
ET DES SPORTS
*Liberté
Égalité
Fraternité*

ACADÉMIE DE NORMANDIE	ACADÉMIE DE VERSAILLES	ACADÉMIE DE REIMS	ACADÉMIE DE STRASBOURG
ACADÉMIE DE RENNES	ACADÉMIE DE NANTES	ACADÉMIE DE DIJON	ACADÉMIE DE NANCY - METZ
ACADÉMIE DE TOULOUSE	ACADÉMIE D'ORLÉANS -TOURS	ACADÉMIE DE LYON	

	Énoncé	Réponse	Jury
1)	La moitié de 1 200		
2)	Complète.	170 180 190 ... 	
3)	Écris 15 centaines en chiffres.		
4)	Entoure le patron du cube.		
5)	Dans un garage, il y a 3 voitures et 1 moto. Combien comptes-tu de roues ? roues	
6)	En utilisant seulement le chiffre 1, écris un nombre plus grand que 999.		
7)	60×5		
8)	Coche le résultat de 4×3 centaines.	<input type="checkbox"/> 120 <input type="checkbox"/> 1 200	
9)	Complète.	$1\,750 + \dots = 2\,000$	
10)	Le tigre vit 15 ans. Le rhinocéros vit 3 fois plus longtemps. Combien de temps vit le rhinocéros ? ans	

	Énoncé	Réponse	Jury
11)	Entoure le nombre le plus proche de 1 990.	2 100 2 010 1 900	
12)	Le double de 125		
13)	Coche la longueur possible d'un autocar.	<input type="checkbox"/> 130 cm <input type="checkbox"/> 13 m <input type="checkbox"/> 130 m	
14)	On distribue équitablement 32 cartes à 4 joueurs. Combien de cartes aura chaque joueur ? cartes	
15)	Écris un nombre en chiffres dans lequel on entend « cent » et « mille ».		
16)	$398 + 102$		
17)	Un cours commence à 9 h 40 et se termine à 10 h 20. Combien de temps dure ce cours ?		
18)	$739 - 728$		
19)	Dans 45, combien de fois 5 ?		
20)	Entoure la pendule qui indique 11 heures moins le quart.	