

NOM:


PRÉNOM:

SCORE: /20

CLASSE:

- ✓ *Durée: 10 minutes*
- ✓ *L'épreuve comporte 20 questions.*
- ✓ *L'usage de la calculatrice et du brouillon sont interdits. Il n'est pas permis d'écrire des calculs intermédiaires.*


SUJET CE1 MARS 2022



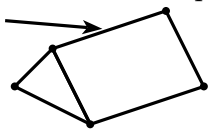
La course aux nombres


MINISTÈRE
DE L'ÉDUCATION
NATIONALE,
DE LA JEUNESSE
ET DES SPORTS
*Liberté
Égalité
Fraternité*

ACADÉMIE DE NORMANDIE ACADÉMIE DE VERSAILLES ACADÉMIE DE REIMS ACADÉMIE DE STRASBOURG
ACADÉMIE DE RENNES ACADÉMIE DE NANTES ACADÉMIE DE DIJON ACADÉMIE DE NANCY-METZ
ACADÉMIE DE TOULOUSE ACADÉMIE D'ORLÉANS-TOURS ACADÉMIE DE LYON



	ÉNONCÉ	RÉPONSE	JURY
1)	Le double de 70 est		
2)	Entoure la bonne réponse	1 heure = 100 minutes 1 heure = 60 minutes	
3)	Complète.	$100 - 20 = \dots$	
4)	Max joue au jeu de l'oie. Il est sur la case 15. Il avance de 5 cases et recule de 3 cases. Sur quelle case est-il maintenant ?	case ...	
5)	Quel nombre est égal à 3 unités et 54 dizaines.		
6)	Entoure le nombre le plus proche de 301.	299 309 290	
7)	Écris le nombre qui a zéro pour chiffre des dizaines et des unités et qui vient après 427.		
8)	La longueur d'un crayon c'est 150 cm, 150 mm ou 150 m ?		
9)	Écris en chiffres quatre-cent-soixante-treize.		
10)	Que montre la flèche ? Coche la bonne réponse.	<input type="checkbox"/> une face <input type="checkbox"/> un sommet <input type="checkbox"/> une arête	



	ÉNONCÉ	RÉPONSE	JURY
11)	Complète cette suite logique.	515 ; 510 ; ... ; ... ; 495	
12)	Dans une bergerie, il y a 64 brebis et des agneaux. En tout, il y a 94 animaux. Combien y a-t-il d'agneaux ?		
13)	La moitié de 100 est		
14)	Ecris un nombre dans lequel on entend vingt mais qui s'écrit sans le chiffre 2.		
15)	Complète avec le bon nombre.	$270 \quad 280 \quad 290 \quad \dots \quad 310$ 	
16)	Complète.	$808 - 400 = \dots$	
17)	Le boulanger a fabriqué 5 plateaux de 6 tartes. Combien de tartes a-t-il fabriquées ?		
18)	Dessine les aiguilles de la pendule pour indiquer 8 h 30.		
19)	Complète	$3 \times \dots = 12$	
20)	Dans un champ, il y a 6 vaches. Combien comptes-tu de pattes ?		