

Questions flash

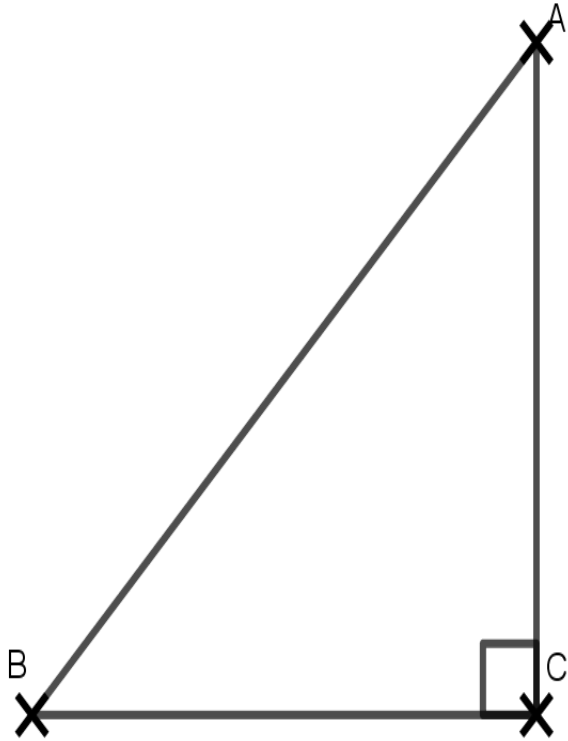
1)

3 X 8

2)

$$27 + 13$$

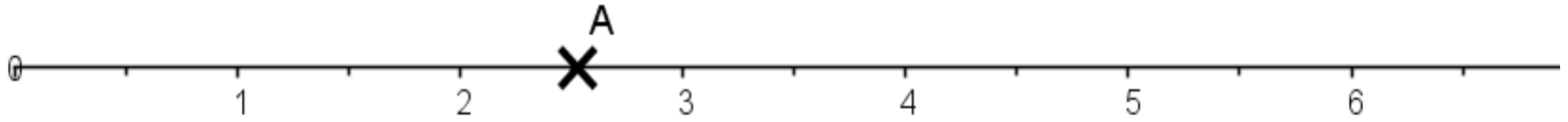
3) isocèle, rectangle, équilatéral ou
quelconque?



4) D'après le tableau, quel est le salaire de Mme Lajoie?

	A	B	C	D	E
1	Nom	Prénom	Sexe	Service	Salaires
2	Dupond	Charles	M	Comptabilité	2 000 €
3	Dupuis	Jean	M	Ressources Humaines	2 500 €
4	Langlois	Françoise	F	Marketing	4 000 €
5	Smith	Martine	F	Publicité	3 500 €
6	Duval	Julien	M	Achat	3 000 €
7	Lajoie	Céline	F	Direction	5 000 €
8					

5) Quel est l'abscisse du point A?



Questions flash

1) 7X8

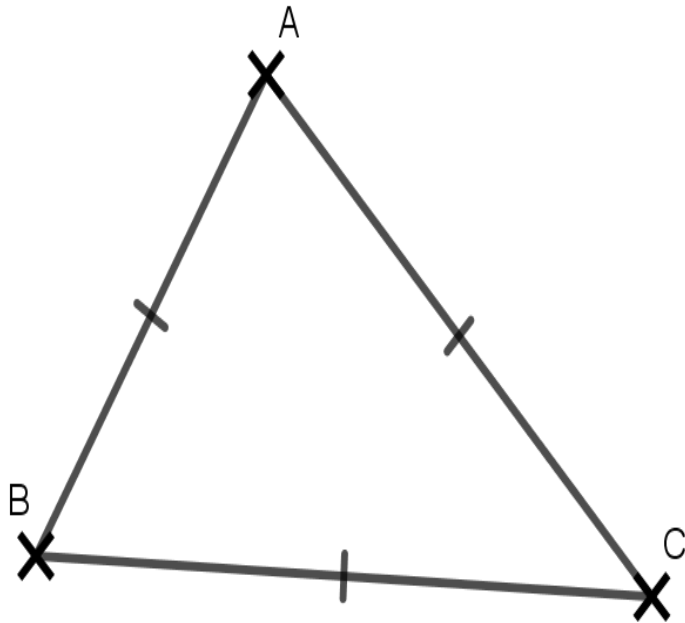
2)

33-13

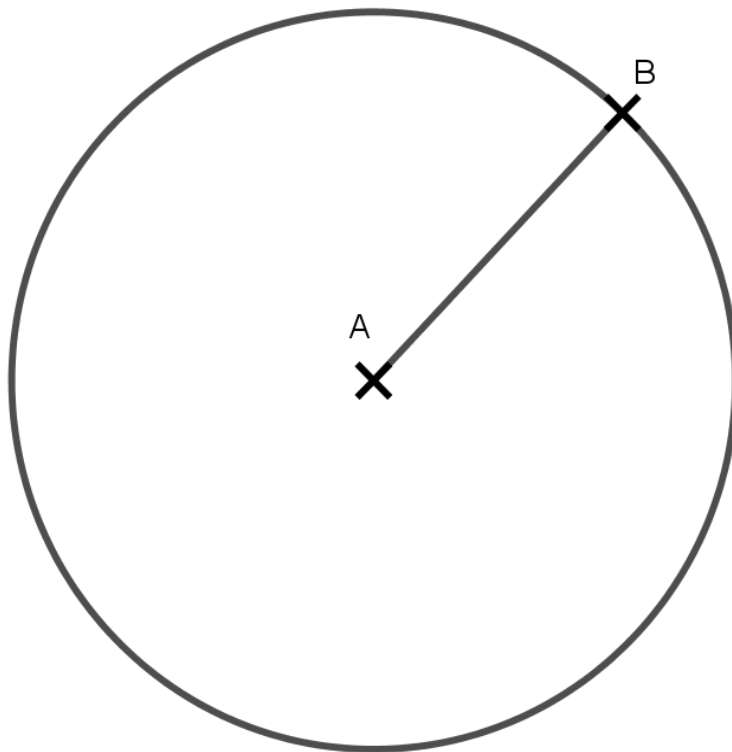
3) Dans la division suivante, quel est le dividende?

$$\begin{array}{r} 67 \\ - 60 \\ \hline = 07 \end{array} \quad \begin{array}{r} 12 \\ \hline 5 \end{array}$$

4) isocèle, rectangle, équilatéral ou quelconque?



5) Le segment $[AB]$ est du cercle

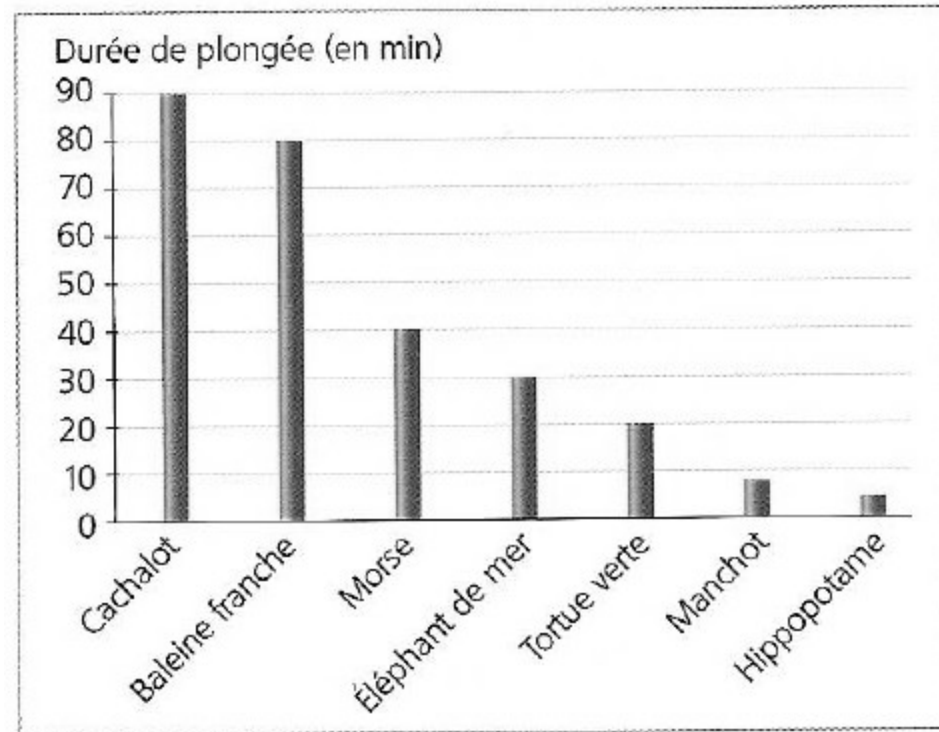


Questions flash

1) 9 X 7

2) Quel est le triple de 20?

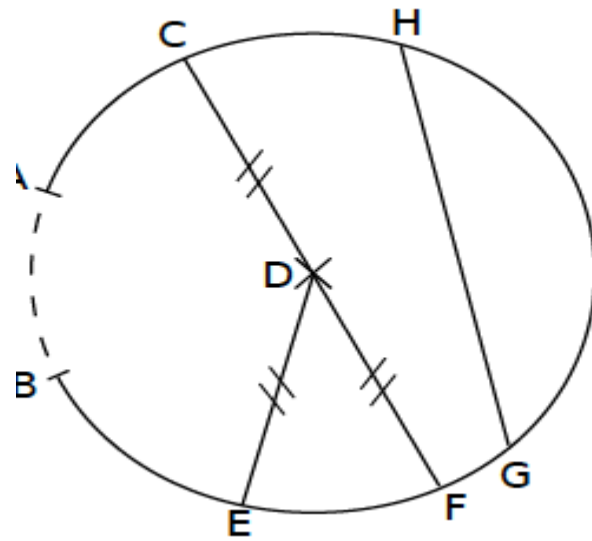
3) Quelle est la durée de plongée d'une tortue verte ?



4) Dans un repère du plan

si un point A a pour coordonnées $(-8 ; 3)$ alors -8 est de A et 3 estde A .

5) Le segment [HG] est



Questions flash

1) 9 X 6

2) Quel est le quart de 20?

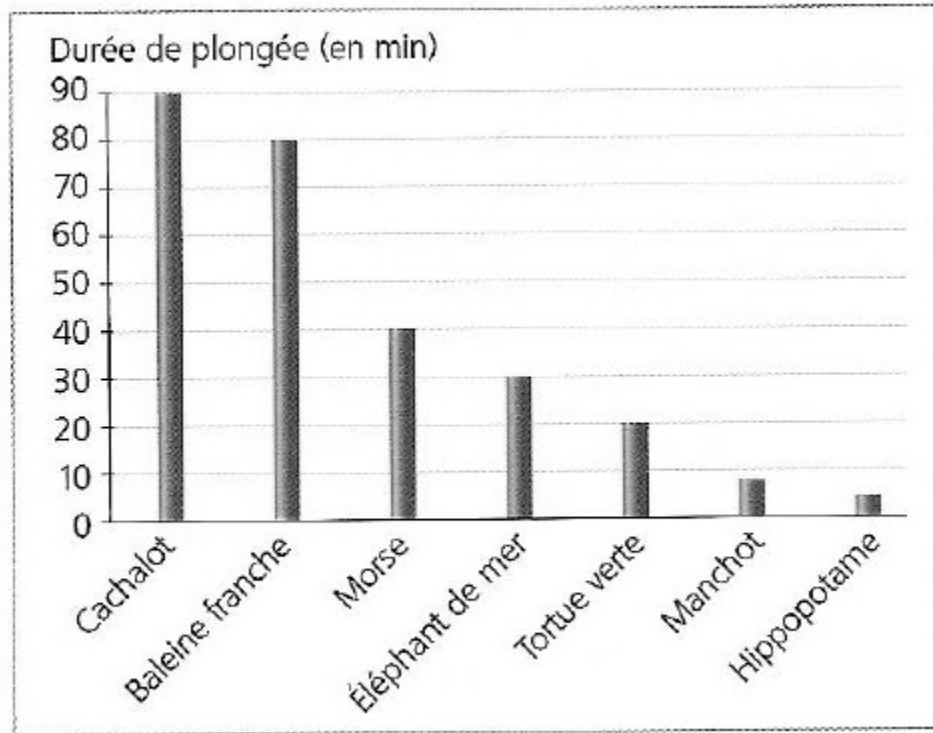
3) Dans un repère du plan.

L'axe vertical est appelé l'axe des

..... et l'axe horizontal est l'axe

des

4) Quel animal peut rester en plongée pendant une demi-heure exactement ?



5) La partie du cercle tracée en pointillés est

.....

