

NOM :


PRÉNOM :

CLASSE :

SCORE : / 20

- ✓ *Durée : 10 minutes*
- ✓ *L'épreuve comporte 20 questions.*
- ✓ *L'usage de la calculatrice et du brouillon sont interdits.
Il n'est pas permis d'écrire des calculs intermédiaires.*

SUJET CE1 Mai-Juin 2023



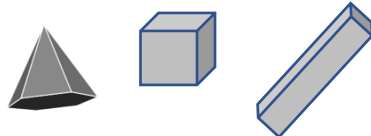



La course aux nombres


MINISTÈRE
DE L'ÉDUCATION
NATIONALE,
DE LA JEUNESSE
ET DES SPORTS
*Liberté
Égalité
Fraternité*

ACADÉMIE DE NORMANDIE ACADÉMIE DE VERSAILLES ACADÉMIE DE REIMS ACADÉMIE DE STRASBOURG
ACADÉMIE DE RENNES ACADÉMIE DE NANTES ACADÉMIE DE DIJON ACADÉMIE DE NANCY-METZ
ACADÉMIE DE TOULOUSE ACADÉMIE D'ORLÉANS-TOURS ACADÉMIE DE LYON



	Énoncé	Réponse	Jury
1	Le double de 25 est	
2	Entoure la bonne réponse.	1 kilogramme = 100 grammes 1 kilogramme = 1 000 grammes	
3	Complète avec le bon nombre.	700 800 900 1 100 	
4	Un coureur est à la dixième place. Il dépasse trois coureurs. Avant la ligne d'arrivée, un coureur lui passe devant. A quelle place arrive-t-il ?	Il arrive à la place.	
5	Quel est mon score ? Entoure la bonne réponse.	 10 640 460 406	
6	Entoure le nombre le plus proche de 799.	809 795 802	
7	Mon chiffre des dizaines est 9. Mon chiffre des unités est 9. Je viens avant 603 et suis le plus grand possible. Qui suis-je ?	
8	Entoure la longueur d'un stylo.	15 m 15 dm 15 cm	
9	Ajoute dix au nombre <i>cing-cent-soixante-dix-huit</i> . Ecris-le en chiffres.	
10	Entoure le pavé droit qui n'est pas un cube.		

	Énoncé	Réponse	Jury
11	Complète cette suite logique.	690 ; 695 ; ; ; 710	
12	Dans mon porte-monnaie, j'ai 100 euros. J'achète une bande dessinée à 25 euros. Combien d'argent reste-t-il dans mon porte-monnaie ? euros.	
13	La moitié de 140 est	
14	Ecris les nombres qui sont compris entre 150 et 190 et qui se terminent par 8.	
15	Ecris le nombre qui correspond à 6 dizaines et 32 unités.	
16	Complète.	$864 - 30 = \dots\dots$	
17	Le jardinier a planté 6 rangées de 4 salades. Combien de salades a-t-il plantées ?	Il a planté salades.	
18	Léa part à 8h30, elle met une demi-heure pour arriver au gymnase. Dessine les aiguilles de la pendule pour indiquer l'heure à laquelle elle arrive.		
19	Complète.	$3 \times \dots = 24$	
20	Dans le parking, il y a 7 voitures. Combien comptes-tu de roues ? roues.	