

Nom : .....


Prénom : .....

Score : /20

Classe : .....

- ✓ *Durée : 10 minutes*
- ✓ *L'épreuve comporte 20 questions.*
- ✓ *L'usage de la calculatrice et du brouillon sont interdits. Il n'est pas permis d'écrire des calculs intermédiaires.*

## Sujet CP mars 2022







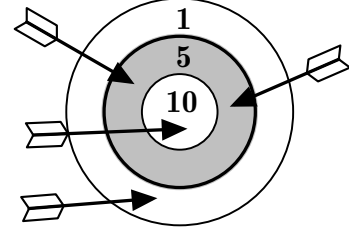
## La course aux nombres

  
MINISTÈRE  
DE L'ÉDUCATION  
NATIONALE,  
DE LA JEUNESSE  
ET DES SPORTS  
*Liberté  
Égalité  
Fraternité*

ACADÉMIE DE NORMANDIE    ACADÉMIE DE VERSAILLES    ACADÉMIE DE REIMS    ACADÉMIE DE STRASBOURG  
ACADÉMIE DE RENNES    ACADÉMIE DE NANTES    ACADÉMIE DE DIJON    ACADÉMIE DE NANCY-METZ  
ACADÉMIE DE TOULOUSE    ACADÉMIE D'ORLÉANS-TOURS    ACADÉMIE DE LYON



	Énoncé	Réponse	Jury
1)	Complète.	$32 + 10 = \dots$	
2)	Le double de 7 est		
3)	Avec un billet de 10 € et un billet de 5 €, entoure un jouet que tu peux acheter.	 14 €   17 €   20 €	
4)	Termine le carré à main levée.		
5)	Complète.	$12 - 4 = \dots$	
6)	Le berger a 8 moutons. <b>Combien dorment dans la bergerie ?</b> 	... moutons dorment dans la bergerie.	
7)	Écris le nombre qui va dans la case grise.	 ...	
8)	Dans la cour, il y a 5 poules. <b>Combien comptes-tu de pattes ?</b>	... pattes	
9)	Complète.	$7 + 6 = \dots$	
10)	Écris le nombre qui finit par 0 et qui vient après 14.		

	Énoncé	Réponse	Jury
11)	La moitié de 20 est		
12)	Écris en chiffres.	8 unités et 4 dizaines c'est .....	
13)	Écris le nombre qui manque dans cette suite logique.	6 ; 16 ; 26 ; 36 ; ...	
14)	Aujourd'hui, nous sommes vendredi, hier nous étions ...		
15)	Complète avec « < » ou « > ».	3 dizaines +1 unité ... 29	
16)	Combien de points a Lucie ? 	..... points	
17)	Complète.	$2 + \dots = 10$	
18)	Entoure le nombre le plus proche de 40.	50 ; 37 ; 45	
19)	Tom avait 18 cartes. Il perd des cartes. Maintenant, il en a 12. <b>Combien a-t-il perdu de cartes ?</b>	Il a perdu ... cartes.	
20)	Entoure le crayon le plus court.	