

NOM :


PRÉNOM :

CLASSE :

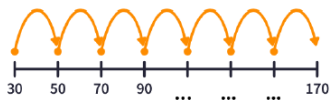
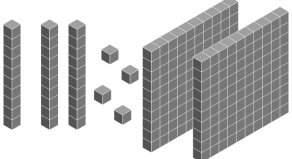

SCORE : / 20



- ✓ *Durée : 10 minutes*
- ✓ *L'épreuve comporte 20 questions.*
- ✓ *L'usage de la calculatrice et du brouillon sont interdits.*
Il n'est pas permis d'écrire des calculs intermédiaires.

SUJET CE1 MARS 2023



La course aux nombres

	Énoncé	Réponse	Jury
1)	Le double de 60 est	...	
2)	Entoure la bonne réponse	1 m = 10 cm 100 cm = 1 m	
3)	Complète :		
4)	Max est sur la case 17 du jeu de l'oie. Il avance de 6 cases puis recule de 3 cases. Sur quelle case arrive-t-il ?	Il arrive sur la case ...	
5)	Écris en chiffres :		
6)	Entoure le nombre le plus proche de 402.	399 409 390	
7)	Quel nombre trouves-tu en ajoutant 15 dizaines à 35 ?	...	
8)	Entoure la masse d'un crayon :	10 g ou 10 kg	
9)	Écris en chiffres : six-cent-quat-vingt-douze	
10)	Que montre la flèche ? Entoure la bonne réponse 	un sommet une face	

	Énoncé	Réponse	Jury
11)	Complète cette suite logique.	205 ; 203 ; 201 ; ... ; ...	
12)	Dans un poulailler, il y a 75 poules et des poussins. En tout, il y a 100 animaux. Combien y-a-t-il de poussins ? poussins	
13)	La moitié de 50 est :	
14)	Écris un nombre dans lequel on entend dix mais qui s'écrit sans le chiffre 1.	
15)	Entoure le paquet de cartes qui a le plus de points.	 ou	
16)	Complète :	900 - 500 = ...	
17)	Le fleuriste a composé 3 bouquets de 5 roses. Combien de roses a-t-il utilisées ? roses.	
18)	Dessine les aiguilles de la pendule pour indiquer 16 h 30.		
19)	Complète :	6 × ... = 24	
20)	Dans le pré, il y a 6 lapins. Combien comptes-tu d'oreilles ? oreilles	